



Nom: corrigé

RÉVISION


à la

Maison

2^e cycle



JOUR #1



MULTIPLICATIONS DU JOUR

			2	6
x				4
		1	0	4

			3	8
x				7
		2	6	6


			5	3
x				5
		2	6	5

			8	3
x				6
		4	9	8

JOUR #2

NOMBRE DU JOUR

23 658,94



Décompose le nombre de 2 façons différentes.


$$20\ 000 + 3\ 000 + 600 + 50 + 8 + 0,9 + 0,04$$

$$2\ \text{dm} + 3\ \text{um} + 6\ \text{cent.} + 5\ \text{diz.} + 8\ \text{u} + 9\ \text{dixièmes} + 4\ \text{centièmes}$$

Combien y a-t-il de dixièmes en tout?	236 658
Quelle est la valeur du 6?	600
Quel chiffre est à la position des centièmes?	4
Ajoute 14 dizaines. Quelle est la somme?	23 798,94
Combien y a-t-il de dizaines en tout?	2 365
Quelle est la valeur du 8 ?	8

JOUR #3

PHRASE DU JOUR



Pour souligner l'été, les animaux de la jungle organisent une soirée grandiose.
présent de l'ind.

CONSIGNES:

1. Encadre le sujet. Pronominalise-le.
2. Identifie le verbe conjugué et son temps de conjugaison.
3. Encadre en vert les groupes du nom. Identifie le noyau dans les GN.
4. Surligne les compléments du nom dans les groupes du nom (expansions dans le GN).

JOUR #4


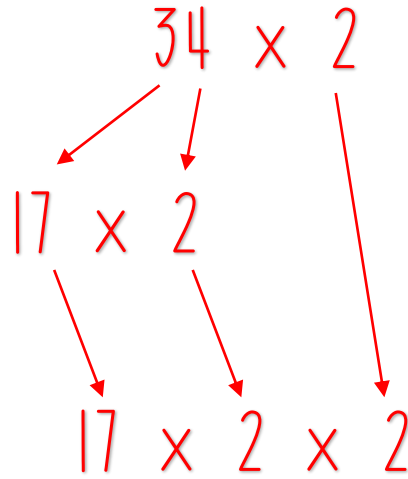
NOMBRE DU JOUR

68

Coche les caractéristiques du nombre.

- Nombre pair
- Nombre impair
- Nombre premier
- Nombre composé
- Nombre carré

Décompose le nombre en arbre de facteurs premiers.



JOUR #5

POURCENTAGES DU JOUR

Trouve les paires.

