



Nom: _____

RÉVISION

à la
Maison

2^e cycle



JOUR #1

NOMBRE DU JOUR

56 478,17

Décompose le nombre de 2
façons différentes.

Two large dashed rectangular boxes for writing the decomposition of the number.

| | |
|---|--|
| Combien y a-t-il de dizaines en tout? | |
| Quelle est la valeur du 4 ? | |
| Quel chiffre est à la position des centièmes? | |
| Quelle est la valeur du 1? | |
| Quelle est la valeur des nombres soulignés? | |


JOUR #2

PHRASE DU JOUR

Dans le salon, Mikko mange tranquillement sa gâterie.

CONSIGNES:

1. Encadre le sujet. Souligne le complément de phrase.
2. Encercele le prédicat. Identifie le verbe conjugué.
3. Encercele les groupes du nom en bleu.



JOUR #3

Fractions, pourcentages

et nombres décimaux

complète le tableau.

| fraction | pourcentage | nombre décimal |
|-----------------|-------------|----------------|
| | 40% | |
| | | 0,04 |
| $\frac{5}{100}$ | | |
| | 50% | |
| | | 0,25 |
| | 90% | |
| $\frac{3}{100}$ | | |

JOUR #4

DIVISIONS DU JOUR

$$125 \div 5 =$$



$$192 \div 3 =$$



JOUR #5

CONVERSIONS DU JOUR

| M | DM | CM | MM |
|---|----|----|----|
| | | | |

Transforme les mesures suivantes. Tu peux utiliser le tableau métrique pour t'aider.

| | |
|--------------|--|
| 36 dm en cm | |
| 14 dm en mm | |
| 8 m en mm | |
| 7 m en dm | |
| 150 mm en cm | |
| 200 m en cm | |